

105年公務人員特種考試外交領事人員及外交行政人員、 民航人員、國際經濟商務人員及原住民族考試試題

考試別：原住民族特考

等別：四等考試

類科組：經建行政

科目：經濟學概要

考試時間：1 小時

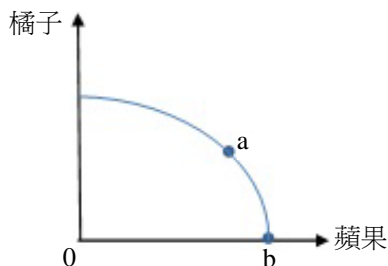
座號：_____

※注意：(一)本試題為單一選擇題，請選出一個正確或最適當的答案，複選作答者，該題不予計分。

(二)本科目共 50 題，每題 2 分，須用 2B 鉛筆 在試卡上依題號清楚劃記，於本試題上作答者，不予計分。

(三)禁止使用電子計算器。

- 假設縱軸為工資率，橫軸為勞動數量。如果勞動市場是完全競爭，則個別廠商面對的勞動供給線是：
(A)水平線 (B)垂直線 (C)正斜率 (D)負斜率
- 在其他條件不變之下，若一國的部分失業人口因長久找不到工作而放棄繼續找工作，那麼此國的失業率會如何變化？
(A)上升 (B)下降 (C)不變 (D)不一定
- 「負面外部性」(negative externality) 意指：
(A)一人之消費量高於他人之消費量 (B)一人之消費量低於他人之消費量
(C)一人之消費量與他人之消費量成正相關 (D)一人之行為會造成他人之傷害
- 對季芬財的發生，下列敘述何者錯誤？
(A)當物品價格上升，對該物的需求量反而增加 (B)發生在所得非常低的情況
(C)是一種劣等財 (D)是因為物價上升的所得效果小於替代效果
- 所謂「邊際報酬遞減法則」指的是隨著生產要素雇用增加：
(A)長期平均成本隨產量增加而遞減 (B)利潤隨產量增加而遞減
(C)短期邊際產量終究會遞減 (D)廠商必在總產量遞減階段下生產
- 有關下列成本的敘述何者正確？
(A)機會成本 < 隱藏成本 (B)會計成本 = 機會成本 + 隱藏成本
(C)經濟成本 = 外顯成本 + 隱藏成本 (D)會計成本 > 機會成本
- 當競爭市場達到均衡時，此時最可能的情形是：
(A)沒有消費者剩餘 (B)沒有生產者剩餘
(C)沒有社會總剩餘 (D)沒有絕對損失 (dead-weight loss)
- 蜜蜂飼養的社會最適數量是 100，完全競爭市場決定的數量是 80。若此時有經濟效率之損失 10，則下列敘述何者正確？
(A)蜜蜂數量由 80 增加到 100，養蜂者將增加利潤 10
(B)蜜蜂數量由 100 減少到 80，養蜂者將增加利潤 10
(C)蜜蜂數量由 80 增加到 100，社會福利將增加 10
(D)蜜蜂數量由 100 減少到 80，社會福利將增加 10
- 貿易條件 (terms of trade) 的定義為：
(A)出口品成本除以進口品成本 (B)能換得的進口品數量除以出口品數量
(C)兩國關稅之比率 (D)出口國匯率除以進口國匯率
- 假設下圖為某農民生產蘋果與橘子之生產可能線。圖中 a 點與 b 點均位於生產可能線上，下列對於 a 點與 b 點的敘述，何者正確？



- (A) a 點之生產組合同時有蘋果與橘子的生產，但 b 點僅生產蘋果，因此 a 點一定比 b 點好
- (B) a 點之生產組合同時有蘋果與橘子的生產，但 b 點僅生產蘋果，原因可能是 b 點未達技術效率
- (C) a 點與 b 點均為資源與技術充分利用之生產組合點
- (D) 生產蘋果的機會成本，在 a 點與在 b 點相同

11 下列有關「進口關稅」與「進口配額」之敘述，何者錯誤？

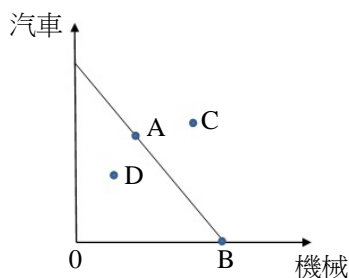
- (A)兩者都可以達到扶持國內特定產業的目的
- (B)兩者都可以使得國內業者的供給量上升
- (C)進口關稅屬於從價管制，進口配額屬於從量管制
- (D)進口關稅會使得進口品價格上升，但進口配額不會對進口品價格產生任何影響

12 假設一個木匠工作一個月，可生產的木桌及木椅的最大可能組合如下表，則關於此木匠之生產可能線，下列敘述何者正確？

木桌	0	25	50	75	100
木椅	60	45	30	15	0

- (A)負斜率的直線
- (B)正斜率的直線
- (C)負斜率且向外凸出的曲線
- (D)正斜率且向外凸出的曲線

13 假設某國家生產機械與汽車，生產可能線如下圖所示。該國未開放國際貿易前之生產點為 A 點，開放貿易後，根據比較利益法則專業化生產機械，生產點變為 B 點，且與他國貿易而得利。該國開放貿易前與開放貿易後的消費點為何？



- (A)開放貿易前消費點為 A 點，開放貿易後消費點為 B 點
- (B)開放貿易前消費點為 A 點，開放貿易後消費點為 C 點
- (C)開放貿易前消費點為 D 點，開放貿易後消費點為 B 點
- (D)開放貿易前消費點為 D 點，開放貿易後消費點為 C 點

14 假設有一位肉品工廠領班，需負責分配 4 位工人的工作項目。下表為 4 位工人生產每包香腸及火腿所需的工時（小時）。若該領班要指派 2 人生產香腸，2 人生產火腿。根據比較利益法則，那兩位工人應負責生產香腸？

工人	香腸	火腿
甲	2	1
乙	2	3
丙	4	1
丁	4	5

- (A)甲與乙
- (B)甲與丙
- (C)乙與丁
- (D)丙與丁

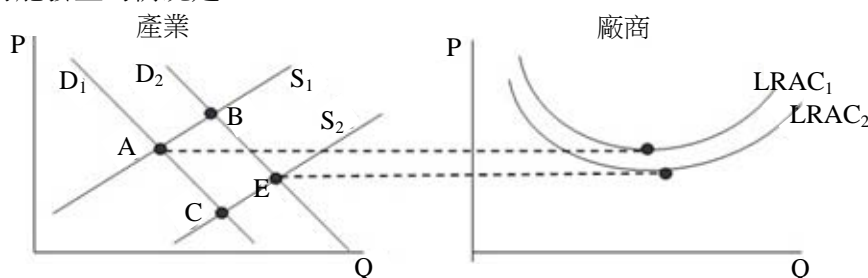
15 老張酒館是一個追求利潤最大的獨占廠商，且消費者對它的需求曲線為 $p=11-2q$ ，其中 p 及 q 分別為價格及產量。老張酒館的總成本函數為 $TC(q)=16+2q$ 。若政府對此廠商所出售的每瓶酒課徵 1 元的從量稅。在此廠商的價格及數量下所對應的消費者剩餘為：

- (A)9
- (B)8
- (C)5
- (D)4

16 假設供需法則成立，在其他條件不變下，政府決定對購買高濃度酒品的消費者課徵從量稅，則所有生產高濃度酒品的生產者剩餘會：

- (A)減少
- (B)不變
- (C)增加
- (D)因資訊不足無法判斷

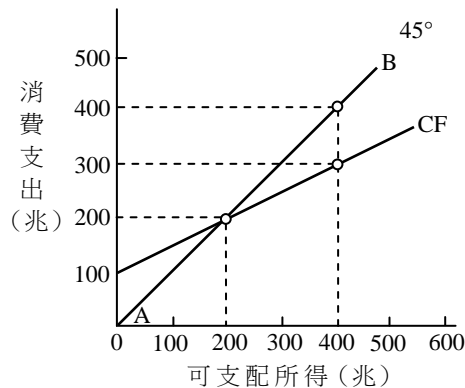
17 下圖顯示某長期成本遞減產業之狀況，原先產業之需求與供給分別是 D_1 與 S_1 。如果市場需求增加為 D_2 ，則此產業長期最可能發生的情況是：



- (A)停留在 A 點
- (B)移動到 B 點
- (C)移動到 C 點
- (D)移動到 E 點

- 18 關於總變動成本，下列敘述何者錯誤？
(A)總變動成本在長期等於總成本 (B)總變動成本曲線通過原點
(C)總變動成本等於總成本減去總固定成本 (D)總變動成本曲線之斜率為負值
- 19 當某甲的所得增加為原先兩倍時，其對某品牌衣服的需求量卻增加為原先的三倍。在其他條件不變時，對某甲而言，該品牌衣服是：
(A)正常財 (B)劣等財 (C)季芬財 (D)必需品
- 20 中央銀行欲實施寬鬆的貨幣政策時，可以採取下列何種方式？
(A)提高法定準備率 (B)在債券市場賣出債券 (C)降低重貼現率 (D)在外匯市場賣出外匯
- 21 就追求利潤極大的競爭廠商而言，只要 ① 超過 ②，廠商會寧願忍受虧損也不停工。前述文字①②應分別填入：
(A)價格，平均變動成本 (B)價格，平均固定成本 (C)總收入，總固定成本 (D)總收入，總成本
- 22 具有非敵對 (non-rival) 與非排他 (non-excludable) 特性之公共財，如果交由市場自由決定其產量，結果會是：
(A)生產數量太少，因為生產者會要求太高的價格 (B)生產數量太少，因為消費者願付價格太低
(C)生產數量太多，因為生產者願意接受較低價格 (D)生產數量太多，因為消費者願付價格太高
- 23 在其他條件不變下，張小姐在考慮其對洗面乳的需求或需求量時，下列何項最不可能為其考慮因素？
(A)張小姐所得 (B)國外同學李小姐的所得 (C)香皂價格 (D)洗面乳價格
- 24 令橫軸為數量，縱軸為價格。若某一財貨的需求曲線恰與橫軸重合，則該財貨為：
(A)正常財 (B)劣等財 (C)季芬財 (D)自由財
- 25 假設縱軸為價格，橫軸為數量，且有數條不同的直線型需求曲線，皆符合需求法則，這些需求曲線並不平行，且皆相交於同一點，則對該相交點的彈性而言：
(A)經過此相交點的需求曲線之斜率絕對值愈小，其需求價格彈性絕對值愈小
(B)經過此相交點的需求曲線之斜率絕對值愈大，其需求價格彈性絕對值愈大
(C)經過此相交點的需求曲線之斜率絕對值愈小，其需求價格彈性絕對值愈大
(D)經過此相交點的需求曲線之斜率絕對值雖然不同，其需求價格彈性絕對值皆相同
- 26 假設某礦泉水公司面對的市場需求函數為 $Q=50-2P$ ， Q 為數量， P 為價格，而目前該公司礦泉水售價為每瓶 10 元。若該公司決定以追求最大收益 (maximal revenue) 為目標，則該公司礦泉水售價應：
(A)維持每瓶 10 元 (B)每瓶降價 2.5 元 (C)每瓶漲價 2.5 元 (D)每瓶漲價 1 元
- 27 所謂「洛倫士曲線」(Lorenz Curve) 是用來衡量：
(A)所得分配的不均度 (B)通貨膨脹與失業率之間的關係
(C)失業率與所得之間的關係 (D)所得稅負擔的不均度
- 28 某甲運動員在 1970 年的年薪為 300 萬美元，而乙運動員在 2000 年的年薪為 600 萬美元。我們知道 1970 年的消費者物價指數 $CPI=30$ ，而 2000 年的 $CPI=100$ ，下列敘述何者正確？
(A)乙的實質薪資比甲低 (B)乙的名目薪資比甲低
(C)1970 年的生活成本比 2000 年來得高 (D)2000 年美元的購買力比 1970 年來得高
- 29 下列那一項為景氣復甦的領先指標？
(A)廠商資本設備投資減少 (B)廠商資本設備使用率提高
(C)政府失業救濟金支出上升 (D)非耐久財消費大幅上升
- 30 政府欲對雇主補貼每位勞工每個月 2,000 元的薪資所得，在何種情況下，勞工可以完全得到此一政策的好處？
(A)勞動市場供給彈性無窮大 (B)勞動市場需求彈性無窮大
(C)勞動市場需求彈性等於 1 (D)勞動市場供給彈性等於 1
- 31 其他條件不變之下，若一國之基尼係數 (Gini coefficient) 上升，則表示該國之所得分配不均度變化為何？
(A)上升 (B)下降 (C)不變 (D)不一定
- 32 某一經濟體系，其自發性消費支出為 50 單位，邊際消費傾向為 0.6，投資為 200 單位，政府支出為 250 單位，課稅為 250 單位，出口為 300 單位，進口為 250 單位。根據這些資料，該國的均衡所得為：
(A)1,200 (B)1,000 (C)750 (D)550
- 33 假設其他條件不變。當政府的移轉性支出 (transfer payment) 大幅增加時，下列何者的增幅會最大？
(A)政府消費支出 (B)政府投資支出 (C)民間消費支出 (D)政府稅收
- 34 當獨占廠商總收益最大時，下列何者正確？
(A)邊際收益大於零 (B)邊際收益等於零 (C)邊際收益小於零 (D)價格為零
- 35 在下列何種情況下，目前的國債最可能加重未來國民的總負擔？
(A)國債的發行利率上升 (B)國債的發行利率下降 (C)當前稅率上升 (D)當前稅率下降

- 36 下列何種情況，最符合擴張性貨幣政策的施行？
 (A)央行施行公開市場買入，銀行實際準備金增加 (B)央行施行公開市場買入，銀行實際準備金減少
 (C)央行施行公開市場賣出，銀行實際準備金減少 (D)央行施行公開市場賣出，銀行實際準備金增加
- 37 在下圖中，45度線與消費函數線（CF）之間的垂直距離代表：



- (A)投資水準 (B)總消費支出 (C)消費支出與投資之差距 (D)儲蓄或負儲蓄
- 38 某經濟體系，當可支配所得為 1,200 億元時，其總消費為 600 億元；當可支配所得為 1,600 億元時，其總消費為 800 億元。在簡單凱因斯模型中，該經濟體系的邊際消費傾向等於多少？
 (A)0.25 (B)0.4 (C)0.5 (D)0.75
- 39 節儉的矛盾是指下列那一項變動，使得總儲蓄下降？
 (A)自發性儲蓄減少 (B)誘發性儲蓄增加 (C)自發性消費減少 (D)誘發性消費減少
- 40 某一封閉經濟體系，其名目工資具向下僵固性，但不具向上僵固性，且目前的均衡所得水準小於充分就業時的所得水準。其他條件不變之下，若該經濟體系的政府支出上升，則根據凱因斯的總合供給與需求模型，均衡時該經濟體系所得與物價水準會有什麼變化？
 (A)所得與物價水準皆不變 (B)所得與物價水準皆上升
 (C)所得水準不變，但物價水準上升 (D)所得水準上升，但物價水準不變
- 41 下列為某一封閉經濟體系的資料： $Y=C+I+G$ ； $C=200+0.8(Y-T)$ ； $I=150+0.2(Y-T)$ ； $G=150$ ； $T=T_0+0.2Y$ 。當政府降低 T_0 1 單位，均衡所得增加多少單位？
 (A)2 (B)3 (C)4 (D)5
- 42 日本首相安倍晉三上任後主打「安倍經濟學」，祭出了「三支箭」，誓言要讓日本揮別長期通貨緊縮的困境。安倍的所謂三支箭，不包含下列那一項？
 (A)寬鬆貨幣政策 (B)減稅刺激民間消費
 (C)促進民間投資的成長戰略 (D)擴大財政支出
- 43 假設其他條件不變，下列那一項敘述代表短期總合供給曲線必定是正斜率？
 (A)當實質工資高於勞動市場均衡時的水準時，名目工資保持不變
 (B)當實質工資高於勞動市場均衡時的水準時，名目工資會向上調整
 (C)當實質工資低於勞動市場均衡時的水準時，名目工資保持不變
 (D)當實質工資低於勞動市場均衡時的水準時，名目工資會向上調整
- 44 自民國 81 年以來，我國中央銀行擬定貨幣政策之中間目標為：
 (A)穩定匯率 (B)促進經濟成長 (C)M2 成長率 (D)穩定物價
- 45 當物價膨脹發生，為避免實質購買力下降而努力縮短持有鈔票的時間，此行為所引發的成本為：
 (A)資訊成本 (information cost) (B)皮鞋成本 (shoe leather cost)
 (C)菜單成本 (menu cost) (D)重分配成本 (re-distribution cost)
- 46 當一經濟體系處於「流動性陷阱」(liquidity trap)時：
 (A)利率極低，擴張性的財政政策難以發揮效果 (B)利率極高，擴張性的財政政策難以發揮效果
 (C)利率極低，擴張性的貨幣政策難以發揮效果 (D)利率極高，擴張性的貨幣政策難以發揮效果
- 47 一般而言，相對於繁榮時期，景氣衰退時期的「自動穩定因子」(automatic stabilizers)使政府預算：
 (A)餘額惡化 (B)盈餘提高 (C)漸趨平衡 (D)無特定關係
- 48 當美國聯準會降息時，若其他條件不變，此時美元相對於其他貨幣會：
 (A)升值 (B)貶值 (C)不變 (D)無法確定
- 49 對一個小型開放，資金完全自由移動，且採取浮動匯率的國家而言，貨幣供給增加會使國民所得：
 (A)增加 (B)減少
 (C)不變 (D)其變動方向因資料不足，無法判斷
- 50 下列何者最適合用來衡量生活水準的變化？
 (A)名目 GDP 成長率 (B)實質 GDP 成長率 (C)每人名目 GDP 成長率 (D)每人實質 GDP 成長率